

3. - 4. TRINN

DYR I NORGE

F A S I T

SETT STREK FRA BILDET AV DYRENE TIL RIKTIG NAVN



FJELLREV

OTER



GAUPE



REINSDYR



EKORN



PINNSVIN



LEMEN



ELG



3. - 4. TRINN

DYR I NORGE

F A S I T

SNAKK OM I KLASSEN forts.

8. Hvor lever oteren? Hvordan er oteren tilpasset område den lever i?

- Oteren lever langs kysten, der land møter hav. Oteren lever dermed både på land og i vann og i både saltvann og ferskvann.
- Otrene er godt tilpasset det området de lever: vannfast pels, svømmehud mellom tærne og stive værhår (de har stive værhår for å kunne føle strømmene fra byttet som beveger seg i vannet). Oterens skalle er flat med øyne, nese og ører plassert i tilnærmet samme plan. Det gjør at oteren kan se, høre og puste over vann, samtidig som bare en stripe av ryggen og hodet er synlig i vannskorpa.
- Før otere dykker lukker den ørene og neseåpningen. Den dykker som regel i 1 min men kan holde pusten i opptil 5 minutter.

9. Hva kalles reinsdyr som er hanner? Hunner? Unger hunner?

Hann = bukk

Hunn = simle

Unge = kalv

10. Er julenissens reinsdyr bukker (hanner) eller simler (hunner)? Hvorfor?

Julenissens reinsdyr er alle hunner/simler. Det er fordi hannene mister geviret sitt om høsten (etter brunsten er ferdig), altså før desember og julaften. På bilder og filmer har reinsdyrene til julenissen fortsatt gevir, dermed må de være hunner. Simlene bruker geviret til å kjempe om gode områder med mat om vinteren. Etter kalvingen om våren mister simlene geviret sitt.









3. - 4. TRINN

DYR I NORGE

F A S I T

ENGELSK

Sett strek mellom bildet og det engelske navnet.

1) REINDEER		
2) MOOSE		
3) BEAVER		
4) LYNX		
4) SQUIRREL		
4) ARCTIC FOX		

GÅTER

1) ELG 2) OTER 3) PINNSVIN / PIGGSVIN

BOKSTAVROT

Her er det blitt litt rot ... Stokk om på bokstavene slik at du finner navnet på dyrene.

1) OTER 2) REINSDYR 3) FJELLREV 4) PINNSVIN 5) EKORN 6) ROTTE

7) ELG 8) HVAL 9) SEL 10) ULV

